

Maandag, 4 Mei 2020

Graad 5



Doelwit: Identifiseer en benoem 2D-vorms
 Verskille en eienskappe van 2D vorms en vierhoeke
Hulpbronne: DBE werkboek/Handboek(Almal verstaan)
 Lyntjiespapier

Kitsreken

$13 + = 20$	$24 + = 30$	$55 + = 60$	$23 + = 40$	$21 + = 40$
$46 + = 70$	$34 + = 50$	$20 + = 50$	$19 + = 90$	$23 + = 40$
$134 + = 140$	$231 + = 300$	$250 + = 300$	$121 + = 150$	$2900 + = 3000$



AL, MAAR EK MIS
MNR JONKER.

Aktiwiteit

* Hersien vorige werk en gaan kyk na hulpbronne van verlede week.

*Almal verstaan Wiskunde handboek. (lyntjiespapier) bl. 65 Oef.1 no. 1

* Jy kan **no.2** mondelings vir iemand verduidelik. bl. 65 Oef.1 no. 2

*Almal verstaan Wiskunde handboek. (lyntjiespapier) bl. 65 Oef.1 no. 3

*Almal verstaan Wiskunde handboek. (lyntjiespapier)
bl. 65/66 Kyk wat jy weet. no. 1 -9.

Memo

Maandag, 4 Mei 2020

Bl.65 Oefening 1, no.1

1a)

- 1 – sewehoek/heptagon
- 2 – seshoek/heksagoon
- 3 – vierkant
- 4 – reghoek
- 5 – driehoek
- 6 – vyfhoek/pentagoon
- 7 – driehoek
- 8 – sewehoek/heptagoon
- 9 – vierhoek
- 10 – vyfhoek/pentagon
- 11 – reghoek

1b) 3, 4, 9, 11

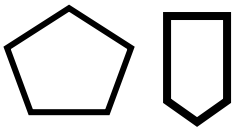
2a) geslote figuur/4 regte hoeke/4 ewe lang sye

b) geslote figuur/4 regte hoeke/2 paar sye wat ewe lank is.

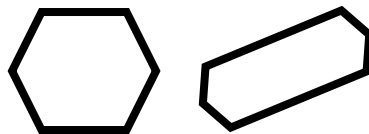
c) geslote figuur/3 hoeke/3 sye

d) geslote figuur/geen hoeke/ een geboë sy

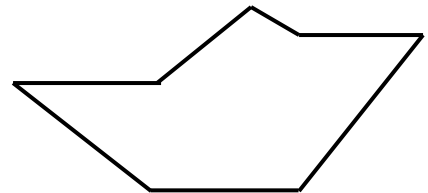
3a)



b)



c)



Kyk wat jy weet Bl 65

1. 178
2. 83
3. a) 54, 7, 3
b) 15, 79, 7
- 4.) $178 - 83 = 95$
- 5.) 7
- 6.) 54
- 7.) Vierkant
- 8.) vyfhoek, seshoek, sewehoek
- 9.) driehoek