

Woensdag, 13 Mei 2020

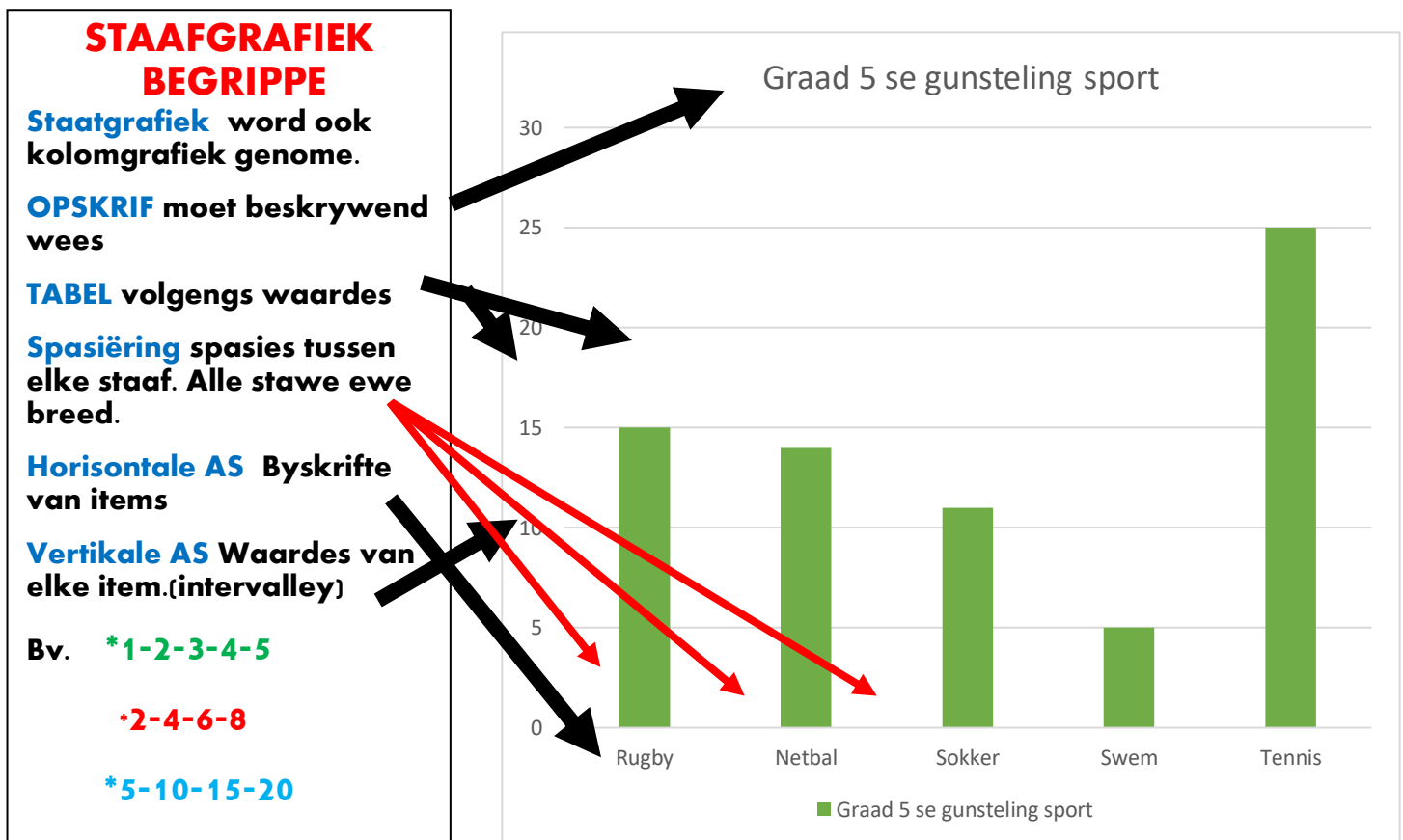
Graad 5

Doelwit: Datahantering
Versamel, organiseer en stel data voor.
Hulpbronne: DBE werkboek/Handboek(Almal verstaan)
Lyntjiespapier/Youtube



Kitsreken

$11 \times 4 =$	$6 \times 2 =$	$9 \times 3 =$	$12 \times 8 =$	$12 \times 6 =$
$11 \times 11 =$	$8 \times 7 =$	$15 \div 5 =$	$48 \div 6 =$	$72 \div 6 =$
$24 \div 4 =$	$7 \times 4 =$	$9 \times 1 =$	$144 \div 12 =$	$121 \div 11 =$
$35 \div 5 =$	$15 \div 3 =$	$45 \div 5 =$	$19 \times 2 =$	$120 \div 2 =$



Aktiwiteit 1

Beantwoord die volgende vrae.

1. Wat is die opskrif van die grafiek?
2. Watter data is ingevorder?
3. Watter intervale, waardes is gebruik?
4. Noem al die sportsoorte?
5. Watter sportsoort is die meeste?
6. Hoeveel meer leerders hou van tennis as swem?
7. Hoeveel leerders het deelgeneem?
8. Die skool ontvang 'n donasie van R1 000 000. Hulle wild it graag aanwend vir nuwe sport geriewe. Gebruik die data wat aan jou verskaf is en neem 'n goeie besluit en motiveer jou antwoord.



Aktiwiteit 2

DBE werkboek bl.xliv no. 1-4

Almal verstaan Wiskunde Bl.49. Kyk wat jy weet. no. a-e

Memo

Woensdag 13 Mei 2020

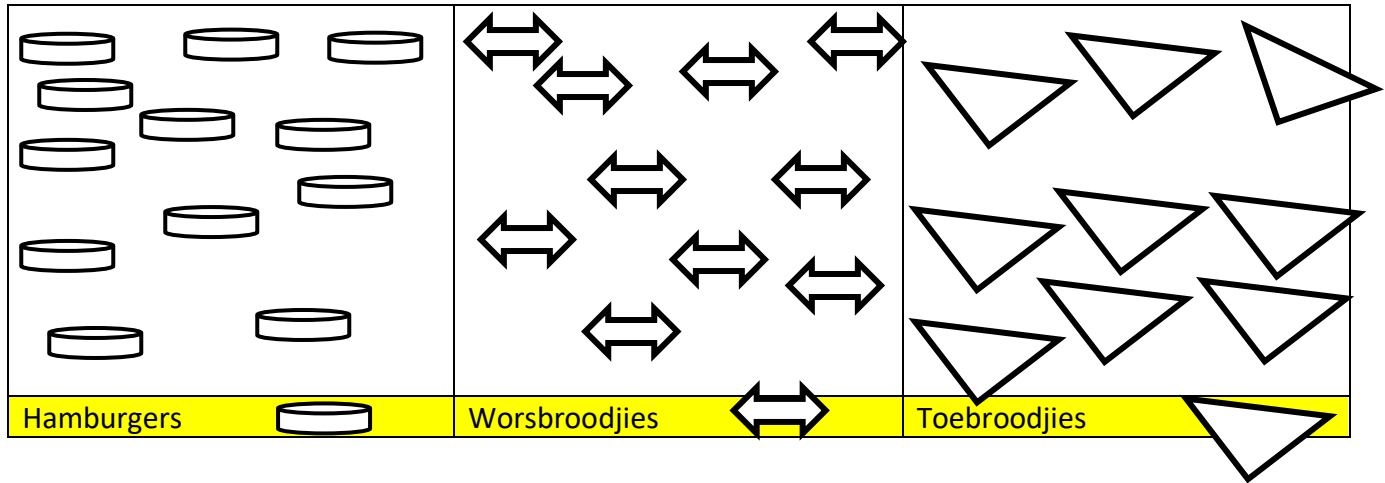
Aktiwiteit 1

- 1.) Graad 5 se gunsteling sport.
- 2.) Sportsoorte/Rugby/Netbal/Sokker/Swem/Tennis
- 3.) 0 – 5 – 10 – 15 – 20 – 25 – 30 (5 meer)
- 4.) Rugby/Netbal/Sokker/Swem/Tennis
- 5.) Tennis
- 6.) 20 meer
- 7.) 70 leerders
- 8.) bv. Tennisbane, meeste leerders hou van tennis.
Swembad, kyk om liefde vir swem te kweek.

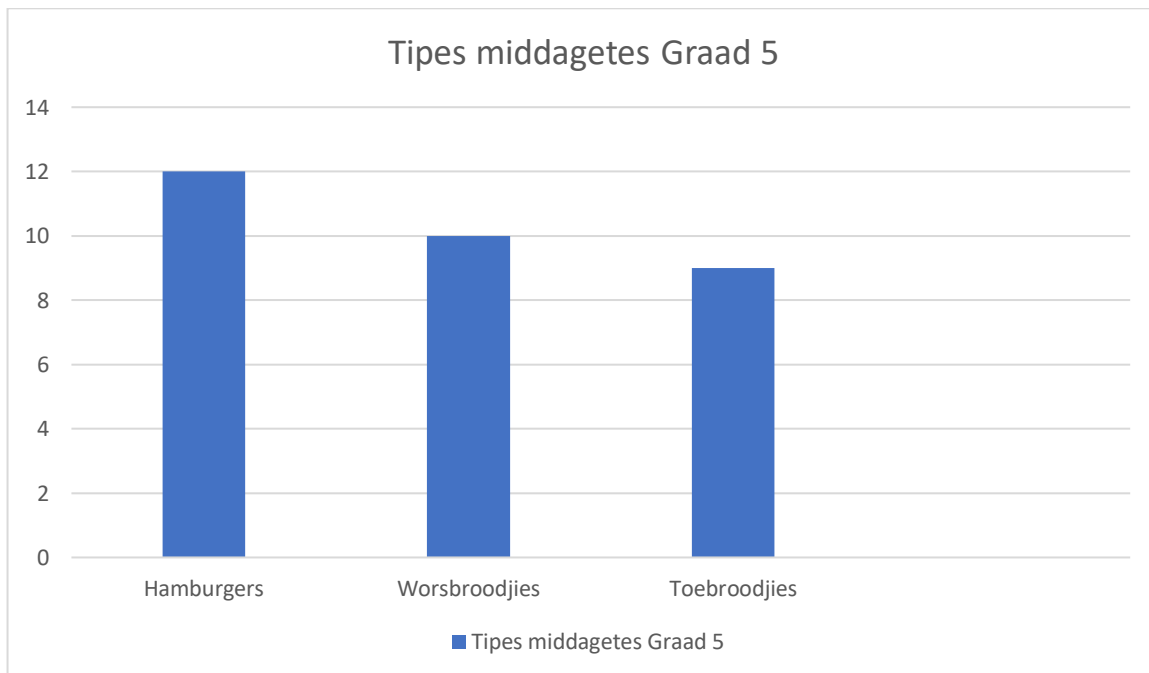
Aktiwiteit 2 DBE werkboek bl.xliv

- 1.) Hamburgers - 12
Worsbroodjies - 10
Toebroodjies - 9

2.) Prentegrafiek



2.) Staafgrafiek



3a.) 12

b.) 10

c.) 9

d.) Hamburgers

e.) Toebroodjies

4.)

Gaan beslis	Gaan beslis nie	Onseker
Eie raamwerk	Eie raamwerk	Eie raamwerk

Aktiwiteit 3 Almal verstaan Wiskunde Bl.49 Kyk wat jy weet.

- a.) Klou aan diere vas.
- b.) Deur water versprei.
- c.) 7 meer
- d.)

- a.) Voels
- b.) Water
- c.) 16 meer

